


英語の文章中で起こった出来事を時系列に沿って並べ替える問題で、話の流れや展開を追いながら英文全体を読み通す力を測定する問題が出題

## 共通テスト 第5問 問3

Your Presentation Slides

30



Central High School  
English Presentation Contest

Who's Who?

Main figures

[ ] · [ ] · [ ]

Minor figures

[ ] · [ ]

31

Pre-fame Storyline

Sabine's horse dies.

↓

32

↓

33

↓

34

↓

35

Aston and Sabine start going to shows.

Aston's Abilities

Aston can:

- learn by simply watching Leon's training.
- walk, gallop, and stop when Sabine tells him to.
- understand distance and adjust his steps.

36

37


問3 Choose the four events in the order they happened to complete the Pre-fame Storyline slide. [ 32 ] ~ [ 35 ]

- ① Aston learns to jump.
- ② Sabine and Aston travel hundreds of kilometers together.
- ③ Sabine buys 309 and his mother.
- ④ Sabine goes to work on her neighbor's farm.
- ⑤ Sabine takes 309 for walks.

## 第1回ベネッセ・駿台模試 第5問 問1

The invention that changed food storage

Period	Events
1858	John Landis Mason invented the Mason jar.
Late 1800s	27
	28
	29
1900s and beyond	30
	31



John Landis Mason

■ About keeping food:

- The Mason jar was better than other types of packaging for the following reasons: [ 32 ]

問1 Members of your group listed the important events connected to the Mason jar. Put the events into the boxes [ 27 ] ~ [ 31 ] in the order that they happened.

- ① John Mason died as a poor man.
- ② Other companies began to copy Mason jars.
- ③ People started using Mason jars for other purposes.
- ④ The Mason jar became popular in the U.S. during the War.
- ⑤ The Mason jar patent ended.

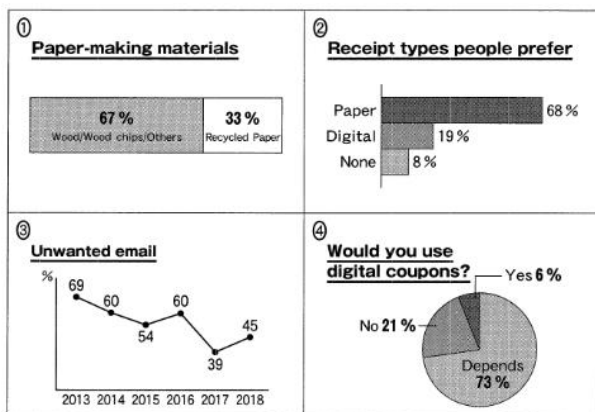
共通テストでは出来事を起こった順に並べ替える問題が複数出題されており、模試でも同傾向の出題を行った。これらの問題で得点するためには完全解答が必要であり、話の流れや展開に注意しつつ出来事の順序性を時系列に沿って把握しながら英文全体を読み通す力が求められた。

4人の会話を聞き、指定された人物の意見に合う図表を選ぶ問題。  
会話の要点を整理し、視覚情報と結びつけて判断する力が求められた。

### 共通テスト 第6問B 問37

**B** 第6問Bは問36・問37の2問です。会話を聞き、それぞれの問いの答えとして最も適切なものを、選択肢のうちから一つずつ選びなさい。下の表を参考にしてメモを取ってもかまいません。状況と問いを読む時間が与えられた後、音声流れます。


問37 会話を聴き、Lukeの意見を最もよく表している図表を、四つの選択肢(①~④)のうちから一つ選びなさい。 37



### 第1回ベネッセ・駿台模試 第6問B 問2

**B** 第6問Bは問1・問2の2問です。英語を聞き、それぞれの問いの答えとして最も適切なものを、選択肢のうちから選びなさい。1回流します。

問2 Mr. Harringtonの意見を支持する資料を、四つの選択肢(①~④)のうちから一つ選びなさい。 37



両者とも、あるテーマに対する4人の会話を聞き、指定された人物の意見に合う図表を選ぶ問題。円グラフ・帯グラフ・折れ線グラフといったグラフや、人々の好みをもとにした図表を選択肢にしている点が共通している。会話の要点を整理して話者の立場を判別し、視覚情報と正しく結びつける必要があった。